

**1. Localitza les següents unitats de relleu al mapa:**

- |                         |                        |                         |             |
|-------------------------|------------------------|-------------------------|-------------|
| 1.Pirineus              | 2.Sistema Ibèric       | 3.Depressió de l'Ebre   | 4. Riu Tajo |
| 5.Sierra Morena         | 6.Monts de Lleó        | 7.Muntanyes Basques     |             |
| 8. Riu Duero            | 9.Massís Galaic        | 10.Monts de Toledo      |             |
| 11.Serralades Catalanes | 12.Riu Miño            | 13.Serralada cantàbrica |             |
| 14.Riu Ebre             | 15.Meseta central      | 16.Riu Guadiana         |             |
| 17.Riu Guadalquivir     | 18.Serralades Bètiques |                         |             |



**2. Relaciona els cims amb les serralades corresponents:**

Pirineus	Peñalara
Sistema Central	Aneto
Sistema Ibèric	Telero
Massís Galaic	Aizkorri
Muntanyes Basques	Cabeza de Manzaneda
Serralada Cantàbrica	Moncayo
Serralada Bètiques	Mulhacén
Monts de Lleó	Turó de l'home
Serralades Catalanes	Torre Cerredo
Illes Balears	Puig Major

**3. Anomena les unitats interiors del relleu peninsular i les unitats exteriors.**

UNITATS INTERIORS

UNITATS EXTERIORS

**4. Quines són les característiques dels següents climes?**

**a) EQUATORIAL**

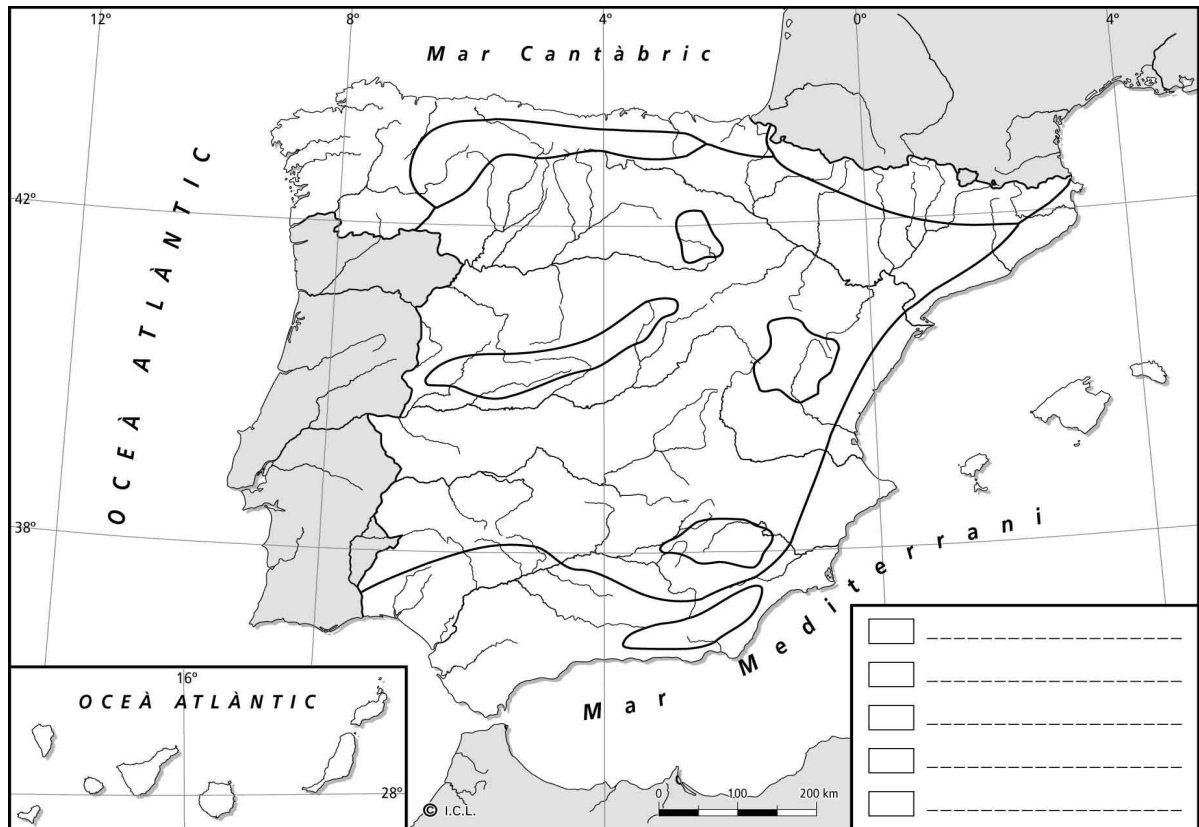
**b) TROPICAL SEC**

**b) DESÈRTIC**

**c) CONTINENTAL**

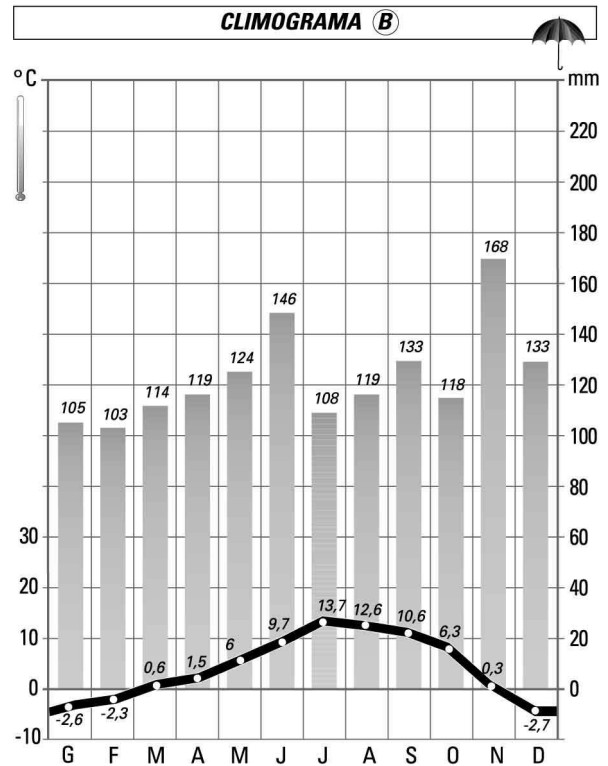
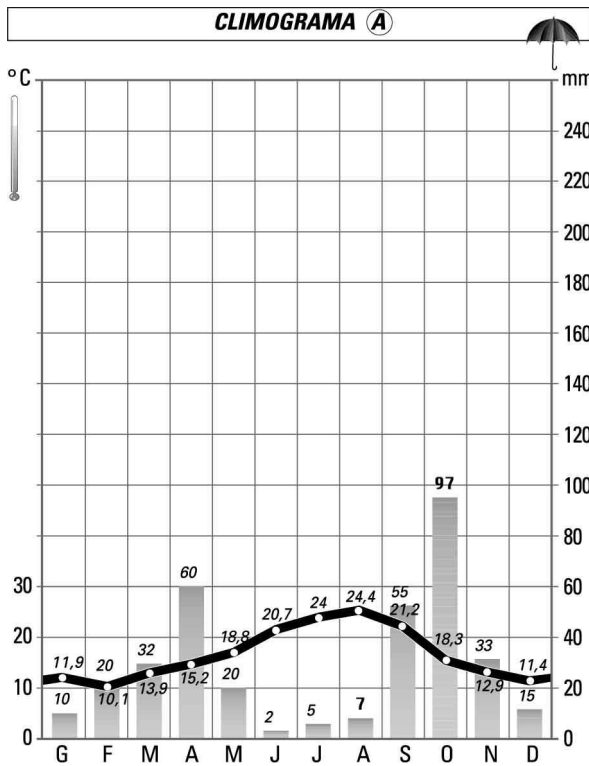
**5. Completa el mapa dels climes d'Espanya amb les instruccions següents:**

- Pinta cada conjunt climàtic d'un color diferent.
- Completa la llegenda indicant a quin color correspon cada conjunt climàtic.



6. Observa amb atenció aquests climogrames representatius de dos dels cinc tipus de clima que podem trobar a Espanya. Tot seguit:

- Indica a quin tipus de clima correspon el climograma A.
- Indica a quin tipus de clima correspon el climograma B.
- Escribe les característiques de cada clima a sota de cada climograma.



**7. Amb les següents dades corresponents a un any, construeix el climograma.  
Indica a quin clima d'Espanya pertany i explica les característiques d'aquest clima.**

<b>Temperatures (°C)</b>	4	7	11	14	18	21	26	29	23	16	10	6
<b>Precipitacions (mm)</b>	23	17	29	50	43	45	23	39	35	32	21	31

**8. Contesta les preguntes següents sobre la població espanyola:**

- On es troben les zones més poblades?
- I les menys poblades?
- Les zones més poblades són les zones urbanes? Per què?
  
- Per què ha baixat la natalitat a Espanya?
  
- Per què ha baixat la mortalitat a Espanya?

**9. Contesta les preguntes següents:**

Quines persones integren la població activa d'un país?

Quines persones integren la població no activa d'un país?

Què és la taxa de natalitat?

Què és la taxa de mortalitat?

**10. Tipus de migracions. Explica-les.**

**11. Localitza al mapa els accidents costaners següents i escriu-ne el nom:**

1. Cap de Creus
2. Cap de Finisterre
3. Punta de Tarifa
4. Golf de Biscaia
5. Cap de Palos
6. Cap de Gata
7. Badia de Palma
8. Delta de l'Ebre



**12. Què és una depressió? Escriu el nom de les dues grans depressions del relleu peninsular.**

**13. On i com es forma un delta?**

**14. Respon les preguntes següents sobre les costes d'Europa i d'Espanya:**

- a) Escriu el nom de cinc mars europeus?
- b) Quins són els accidents costaners més importants de la costa catalana?
- d) Què és un meandre?
- e) Quina diferència hi ha entre un riu i una ria?

**15. En el següent mapa d'Europa posa el nom dels rius de la llista al seu lloc corresponent:**

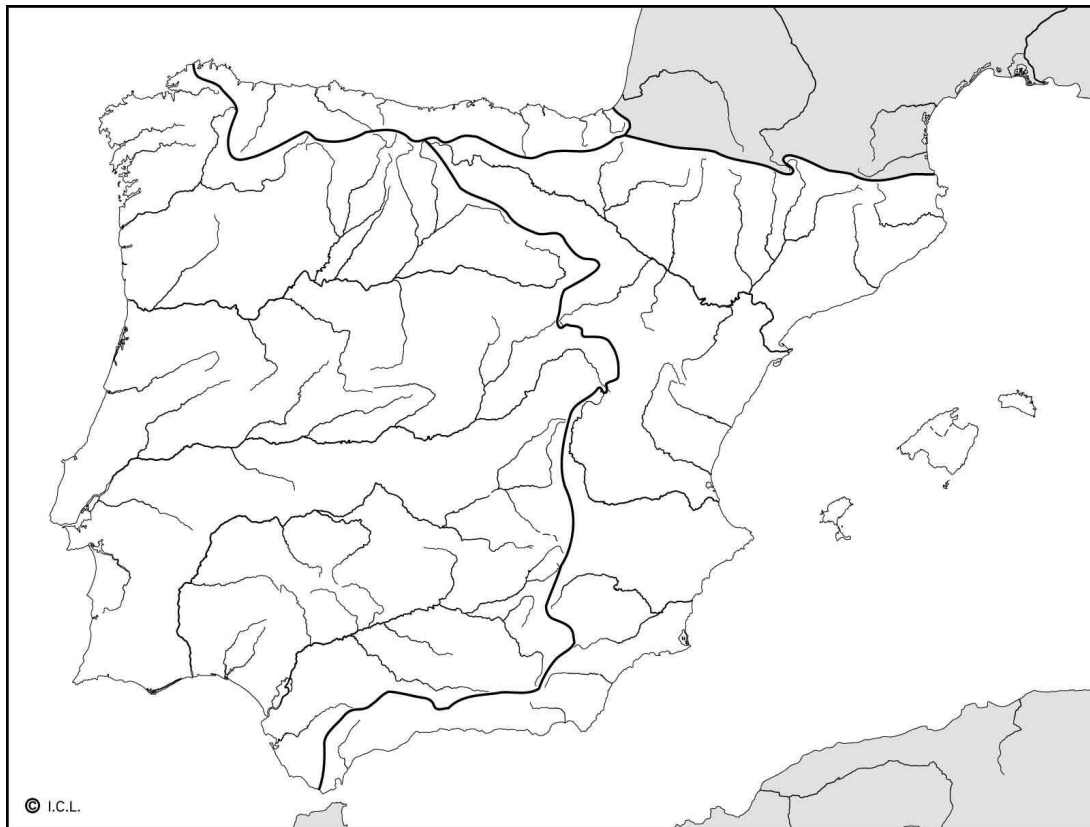
1.el Tajo – 2.el Dnièper – 3.el Danubi – 4.el Duero – 5.el Volga – 6.el Don  
7.el Rin – 8.l'Ebre – 9.el Roina – 10.el Loira – 11.el Po – 12.el Sena – 13.l'Elba  
– 14.el Guadiana





**16. Situa en el mapa d'Espanya els següents rius:**

- |                 |                 |             |              |
|-----------------|-----------------|-------------|--------------|
| 1. Ebre         | 11. Ter         | 21. Segre   | 31. Zújar    |
| 2. Tajo         | 12. Llobregat   | 22. Eume    | 32. Nerbión  |
| 3. Duero        | 13. Túria       | 23. Tormes  | 33. Adaja    |
| 4. Miño         | 14. Almanzora   | 24. Nalón   | 34. Tambre   |
| 5. Guadiana     | 15. Sella       | 25. Tiétar  | 35. Bidasoa  |
| 6. Guadalquivir | 16. Besaya      | 26. Gállego | 36. Cabriol  |
| 7. Sil          | 17. Segura      | 27. Záncara | 37. Ulla     |
| 8. Xúquer       | 18. Esla        | 28. Cigüela | 38. Alberche |
| 9. Tinto        | 19. Jalón       | 29. Aragón  | 39. Pisuerga |
| 10. Odiel       | 20. Guadalhorce | 30. Alagón  | 40. Pas      |



**17. Marca amb una X les característiques de la població espanyola en l'actualitat:**

- El nombre de naixements ha estat molt elevat entre 1970 i 1999.
- La població creix lentament a causa de la disminució de naixements.
- La societat industrialitzada es caracteritza per la incorporació de la dona al treball.
- La mortalitat ha disminuït lentament al llarg del segle XX.
- La mortalitat infantil ha augmentat en el darrer quart de segle.
- L'esperança de vida dels països pobres és superior que la dels països rics.
- La disminució de la mortalitat infantil ha afavorit una esperança de vida més alta.

**18. Anota quines són les causes de l'envelliment de la població espanyola actual i quines conseqüències se'n deriven:**

Causes:

Conseqüències:

**19. Digues si són vertaderes (V) o falses (F) les afirmacions següents:**

- A partir de la dècada dels 90, Espanya s'ha convertit en receptora d'immigrants.
- Els immigrants estrangers provenen sobretot del nord d'Europa.
- Els immigrants estrangers fan les feines més ben pagades.
- Formen la població activa aquelles persones que tenen més d'una feina i es mantenen molt actius durant tot el dia.

**20. Contesta les preguntes següents:**

Quines persones integren la població activa d'un país?

Quines persones integren la població no activa d'un país?

Què és la taxa de natalitat?

Què és la taxa de mortalitat?

**21. Enumera tres dels principals productes de secà i de regadiu a l'Estat espanyol:**

Secà:

Regadiu:

**22. Què és el guaret?**

**23. Explica la diferència entre la pesca de costa i la pesca d'altura.**

**24. Escriu un exemple d'activitat industrial dels següents tipus de fàbriques:**

Indústria de transformació de primeres matèries.

Indústria de fabricació de béns d'equipament.

Indústria de fabricació de béns de consum.

**25. Quins factors determinen la localització d'una indústria?**

**26. Defineix breument els conceptes següents:**

Comerç interior:

Comerç exterior:

Exportació:

Importació:

**27. Explica breument què entenem per desenvolupament sostenible.**

**28. Explica la diferència entre fonts d'energia renovables i fonts d'energia no renovables. Posa 4 exemples de cada.**

**29. Si sabem que fent un consum sense límits pot fer que s'exhaureixin els recursos del planeta, què podem fer per evitar-ho?**

**30. Respon les preguntes següents:**

- De quina manera van reforçar els Reis Catòlics la seva autoritat?

- Què significa que la cort era itinerant?

- Què va passar amb les institucions de cada regne després de la unió de Castella i la Corona d'Aragó?

**31. Digues si les afirmacions següents són vertaderes (V) o falses (F):**

- | <b>V</b>                 | <b>F</b>                 |   |
|--------------------------|--------------------------|---|
| <input type="checkbox"/> | <input type="checkbox"/> | La necessitat de noves rutes comercials va propiciar els grans descobriments. |
| <input type="checkbox"/> | <input type="checkbox"/> | Cristòfol Colom pretenia arribar a les Illes de les Espècies.                 |
| <input type="checkbox"/> | <input type="checkbox"/> | A l'època de Colom, s'acceptava plenament que la Terra era rodona.            |
| <input type="checkbox"/> | <input type="checkbox"/> | Colom i la seva tripulació van partir del port de Palos el 1492.              |
| <input type="checkbox"/> | <input type="checkbox"/> | El primer lloc on va arribar Colom després de la travessia va ser a l'Índia.  |

**32. Respon les preguntes següents referents a la primera volta a la Terra:**

- Per què els portuguesos i els espanyols tenien tant interès per trobar una ruta marítima per arribar a l'Índia?
- Quins van ser els primers que van arribar a Calicut i per quina ruta?
- Per què Colom va fer un viatge cap el oest?
- Quin nom rebien les naus del primer viatge de Colom Amèrica?
- Per què Amèrica rep aquest nom?
- Qui va descobrir l'existència de l'Oceà Pacífic?
- Qui va iniciar el viatge per fer la primera volta al món?
- Què li va passar?
- Qui va completar la primera volta al món?
- Quin recorregut va fer?
- Què va demostrar?

**33. Completa les afirmacions següents:**

- Els pobles i cultures indígenes d'Amèrica anteriors a Colom s'anomenen
  
- Els pobles indígenes més importants eren
  
- La capital de l'imperi asteca era
  
- A l'imperi incaic, la figura encarregada de cobrar els impostos s'anomenava

**34. Explica breument com va anar i què va suposar l'arribada dels espanyols a Amèrica.**

**35. A què anomenem monarquia absolutista?**

**36. Explica la Revolució Francesa.**

**37. Escriu per ordre la llista dels monarques espanyols des dels Reis Catòlics fins a Felip V.**

- 38. Què era i per què existia la figura del virrei?**
- 39. Explica les causes, els fets i les conseqüències de la Guerra dels Segadors.**
- 40. Explica les causes, els fets i les conseqüències de la Guerra de Successió.**
- 41. Què celebrem els catalans el dia 11 de setembre?**
- 42. Explica com són les tècniques agrícoles del guaret i la rotació de conreus.**
- 43. Qui va promulgar i per què el Decret de Nova Planta? Quins dos punts essencials incloïa?**
- 44. Què és la il·lustració? Quines idees defensava?**



**45. De quina data és la primera Constitució Espanyola? On es va redactar? Què va establir, dictar?**

**46. Quina diferència principal hi ha entre una Monarquia i una República?**

**47. A què anomenem Revolució Industrial?**

**48. Quins avantatges i inconvenients va tenir la Revolució Industrial pels burgesos i els treballadors?**

**49. Quines són les principals característiques del sistema capitalista?**

**50. Escriu 5 millores importants que s'hagin produït a la ciència o a la tecnologia durant el segle XX.**

- 
- 
- 
- 
-

- 51. Escriu tot el que sàpigues de la Guerra Civil Espanyola.**
- 52. Què va significar el regnat de Ferran VII i, per contra, el d'Isabel II?**
- 53. Què és el catalanisme? Anomena un dels primers promotors del catalanisme?**
- 54. Què són els eixamples?**
- 55. Què és la Renaixença? Què volia?**
- 56. Què és el modernisme (característiques)? Anomena 2 autors del modernisme i una obra seva.**
- 57. Quines zones del món van tenir un creixement econòmic més gran durant el S. XX? Quina en va ser la causa? Quines grans desigualtats socials existiesen al món actual?**

**58. Explica tot el que sàpigues de la Primera i Segona Guerra Mundial?**

**59. Explica tot el que sàpigues sobre la figura de Francisco Franco**

**60. Què és la democràcia?**

**61. Què és l'Estatut de Catalunya (quan es va aprovar, què proposa...)?**

**62. Explica tot el que sàpigues sobre l'art del Segle XX (arquitectura, escultura, pintura, autors...).**

**63. Fes un esquema sobre les institucions (poders, corts, govern, congrés...) de l'Estat Espanyol**

**64. Què és la Unió Europea i què suposa ser ciutadà de la Unió Europea?**